



PORTUGUÊS

ATIVIDADE 1

O QUE É UM RELATO?

Relato é um gênero textual narrativo em que se conta um fato, geralmente marcante, que tenha acontecido com a pessoa que o está construindo. Um bom relato faz com que seu leitor seja capaz de sentir as mesmas emoções da pessoa que viveu aquele fato.

- Leia o relato das últimas férias de Nina e em seguida responda as questões:

"Nas últimas férias, eu realizei um sonho. Eu fui à Disney! Foi muito legal!

Tive um pouco de medo de andar de avião, mas deu tudo certo. Minha mãe comprou uma passagem noturna, então fui dormindo durante todo o voo. Quando acordei já estávamos em Orlando.

Fomos em muitos parques, como o *Epcot*, o *Universal Studios* e o *Animal Kingdom*. Nesse último, fiz um safári de verdade e fiquei bem pertinho dos animais que só havia visto no zoológico, como leões e girafas. Claro que estávamos dentro de um carro e bem seguros. Mas o parque que eu mais gostei foi o *Magic Kingdom*. Em português, o nome é Reino Mágico, e eu concordo. Realmente, o lugar é mágico. Todos os personagens da Disney, o castelo da Cinderela... foi como estar dentro de um sonho. Ainda quero voltar muitas vezes lá."

- a) Para onde Nina foi em suas férias?

- b) Pelo relato de Nina, é possível perceber que era a sua primeira vez nesse lugar?

- c) Qual foi o parque de que Nina mais gostou? Por quê?

- d) Qual foi a palavra que Nina usou para caracterizar o parque *Magic Kingdom*?

ATIVIDADE 2**Produção de um relato**

Suas experiências do dia a dia certamente já fizeram você produzir vários relatos, que tal agora registrar o relato de uma experiência muito feliz que você já teve em sua vida? Para isso, vamos primeiro organizar as ideias:

O que aconteceu: _____

Quem participou: _____

Quando aconteceu: _____

Onde aconteceu: _____

Agora coloque em ordem os fatos desta experiência:

1º _____

2º _____

3º _____

4º _____

Com as ideias organizadas será mais fácil produzir seu relato. Relate nas linhas a seguir esta experiência feliz. Quando voltarmos as aulas vamos compartilhar com os colegas da sala:

1) Leia as palavras e escreva-as no quadro correspondente.

exército – pirex – exercício – crucifixo – exagerado
Rex – boxeador – táxi – fixar – exame

x com som de cs

x com som de z

2) Forme palavras de acordo com o número das sílabas.

xu 1	no 2	en 3	xer 4	xa 5
são 6	xo 7	xi 8	ter 9	plo 10
da 11	tá 12	ex 13	val 14	ga 15

13,10,6 → _____

12,8 → _____

3,4,15 → _____

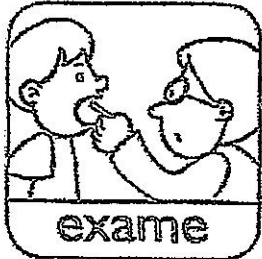
3,1,15 → _____

3,5,11 → _____

13,9,2 → _____

3,7,14 → _____

3) Escreva frases com os desenhos abaixo.



1. Escreva cada palavra de acordo com o tempo indicado:

choveu – acorda – voltarei – chegaram – irão – tenho – riu –
amo – tirarei – chamou – fez – sobrou – sentirei – escreveu
segura – dançarão – cantou – disseram – pegarão – acordará.

PRESENTE	PASSADO	FUTURO

2. Reescreva a frase, mudando o verbo para o tempo pedido:

a) A menina compra bala. (passado)

b) Eu pego o ônibus na praça. (futuro)

c) ~~Faço bolo de leite e chocolate.~~ (presente)

Não fazer!

d) O cachorrinho late todas as noites. (passado)

NOME

DATA

23/27 de 11

1 – Completa os quadros.

Palavra	Antônimo
doce	
frio	
aumentar	
penteado	
tarde	
calçar	

Masculino	Feminino
um pintor	uma
um tio	uma
um	uma aldeã
um valentão	uma
um patrão	uma
um	uma imperatriz

Singular	Plural
freguês	
porco	
leitor	
lápis	
mão	
melão	
jardim	
avental	
funil	



Escola de Educação Básica Apeles Porto Alegre


Profe: Susana Rippel Zapata


Turma 51,52

Data 23 até 27 de novembro.

Matemática

OLHO Ô Ô VIVO!

	96.748	67.578	85.647
			
23.007	$\begin{array}{r} 96.748 \\ -23.007 \\ \hline 73.739 \end{array}$		
42.136			
19.723			
32.857			
51.019			
29.735			



1. No dia 25 de agosto, foi o aniversário da mãe de Celso. Para comprar um presente, ele e seus 4 irmãos arrecadaram entre eles 945 reais.

sabendo que todos colaboraram com a mesma quantia, com quantos reais cada um colaborou? _____

eles compraram um vestido por 489 reais. Quantos reais sobraram do dinheiro que foi arrecadado? _____

2. Em um mercado, o leite é vendido em caixas com 8 unidades ao valor de 16 reais.

Quanto custa cada caixa de leite? _____

3. Se a dona Ana comprar um pacote de arroz por 9 reais e 52 centavos e pagar com 5 cédulas de 2 reais. Quanto vai receber de troco? _____

4. Mariana quer dividir 547 livros entre as 7 turmas do 3º ano. Quantos livros cada turma vai ganhar? _____

5. Em uma padaria devem ser arrumados 189 pães em sacos com 9 pães cada. Quantos sacos serão necessários para colocar todos os pães? _____

6. Sueli tem 872 reais em sua poupança e Isadora tem 436 reais. Qual a diferença entre os valores da poupança das meninas? _____

7. Ano passado foram oferecidos em uma escola 268 vagas para meninos e 357 vagas para meninas e ainda sobraram 104 vagas. Quantas vagas havia na escola? _____

8. Na escola de Diego estão matriculados 345 alunos. Quantos são as meninas se há 189 meninos? _____

9. Bianca ganhou 3597 reais em três meses de trabalho. Quanto ela ganha por mês? _____

10. Brenda possui 486 reais, sua irmã Nicole 312 reais. Elas querem presentear sua mãe com um conjunto de sapato e bolsa por 605 reais.

quanto as duas tem juntas? _____

se cada irmã pagar a metade do presente, quanto vai sobrar para:

Brenda _____ Nicole _____

11. Agora você elabore uma história matemática que contenha no mínimo duas operações.



História


O cotidiano no mundo antigo

Na Antiguidade, as pessoas organizavam seu cotidiano entre as atividades domésticas, religiosas, de trabalho e de lazer. O papel desempenhado por homens e mulheres variava de sociedade para sociedade.

Vida doméstica na Mesopotâmia

Além de espaço de convívio e de moradia, as casas na Mesopotâmia eram espaço de culto aos ancestrais. Havia espaços e objetos considerados sagrados. As mulheres das classes mais ricas recebiam um dote e quase nunca exerciam trabalhos fora de casa. As

mulheres pobres exerciam trabalhos, como a produção artesanal com cerâmica e teares.



Miniatura de uma casa mesopotâmica produzida há cerca de 4500 anos. Peça sumério-acadiana encontrada na Síria.

Vida doméstica no Egito antigo

No Egito antigo, as pessoas viviam em pequenas vilas. As casas eram simples e havia espaço de culto aos deuses. Algumas atividades essenciais à alimentação, como o preparo do pão e da cerveja, eram tarefas executadas por homens e mulheres. A caça era praticada pelos homens, e os jogos de tabuleiro eram uma atividade de lazer muito comum.

As mulheres, em geral, podiam exercer as mesmas profissões que os homens. Apesar de não ocuparem funções ligadas ao Estado, elas não sofriam restrições para aparecer em público e participar das cerimônias religiosas: As egípcias também administravam os bens familiares, podendo vender e comprar propriedade ou controlar o comércio.

Responda de acordo com o texto:

1. Como era organizado o cotidiano na vida doméstica?

2. Como eram as casas na Mesopotâmia?

3. Como era a vida das mulheres:

Ricas

Pobres

4. No Egito como as pessoas viviam e como eram as casas?

5. Quais as atividades que tanto os homens quanto as mulheres podiam exercer?

6. Qual a atividade de lazer era comum entre os homens?-

7. Como era a vida das mulheres?



Ciências

Circulação sanguínea

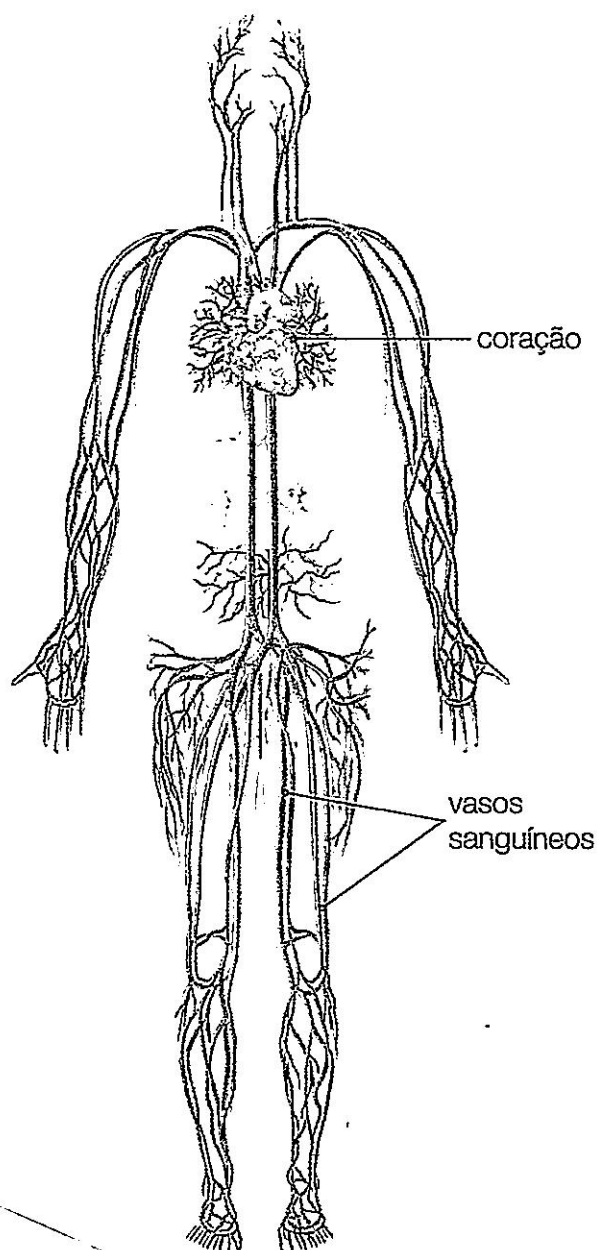
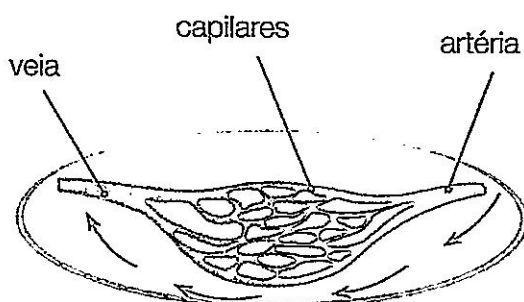
O **sistema circulatório** é formado pelo **sangue**, pelo **coração** e pelos **vasos sanguíneos**. O sangue transporta nutrientes e gás oxigênio para todas as células do corpo. O sangue também recolhe os resíduos produzidos pelas células e os transporta para órgãos específicos para que sejam eliminados do corpo.

O coração

O coração é um órgão formado por músculos e se localiza no meio do peito, levemente no lado esquerdo. Ele bombeia o sangue para todas as partes do organismo.

Os vasos sanguíneos


O sangue circula pelo interior dos vasos sanguíneos. Existem três tipos de vasos sanguíneos: **artérias**, **capilares** e **veias**. Pelas artérias, o sangue sai do coração para todas as partes do organismo. Elas se ramificam muitas vezes até formar vasos sanguíneos muito finos, chamados capilares. Os capilares são os vasos que levam os nutrientes e o gás oxigênio para as células. Também são os capilares que recolhem gás carbônico e outras substâncias que devem ser eliminadas do organismo. Pelas veias, o sangue volta de todas as partes do corpo para o coração.



- 5 Por que é importante que os vasos sanguíneos estejam espalhados por todas as partes do organismo?

- 6 Leia o texto e responda às questões.

O doador de sangue deve ter entre 16 e 69 anos, pesar mais de 50 quilogramas e estar saudável. São coletados cerca de 450 ml de sangue. Os componentes do sangue são separados e enviados aos hospitais para que os pacientes recebam o sangue doado. Uma única doação pode ajudar várias pessoas.



Campanha de incentivo à doação de sangue.

- a) Qual é função do sangue no nosso organismo?

- b) Qual é a importância da doação de sangue?

- c) Quem pode ser doador de sangue?



Escola de Educação Básica Apeles Porto Alegre

Profe: Susana Rippel Zapata

Turma 51,52

Data 23 até 27 de novembro.

Geografia

Responda o questionário das páginas: 84 e 85

7. O que é êxodo rural? _____

9. De que maneira o êxodo rural contribuiu para a urbanização brasileira? _____

a. Quais são as unidades federativas que compõe a região de influência de Manaus?

b. Qual é a classificação de Manaus na hierarquia urbana proposta pelo IBGE?

c. Cite outras três cidades que estão na mesma categoria de Manaus.

d. Explique como são as cidades classificadas nessa categoria da hierarquia urbana.



Escola de Educação Básica Apeles Porto Alegre

Profe: Susana Rippel Zapata

Turma 51,52

Data 23 até 27 de novembro.

Religião

O QUE É ÉTICA

A palavra Ética vem do grego *ethos*, que **significa o modo de ser, o caráter**. Isso indica o comportamento do homem. Esse comportamento é construído com base nas relações coletivas do homem na sociedade onde nasce e vive.

A ética está em tudo o que pensamos e fazemos. Precisamos dela para saber o que fazer em qualquer situação. Por exemplo: o que você faria se alguém lhe entregasse um troco com dinheiro a mais? Se você quebrasse algo e ninguém visse? Se você visse uma pessoa mentindo para outra? A ética nos orienta quanto à atitude que deveremos ter em cada situação.

Para ser ético, é preciso praticar quatro valores fundamentais: o respeito, a justiça, o diálogo e a solidariedade. É necessário respeitar as pessoas para que elas também nos respeitem. Respeitamos as pessoas, os animais, as plantas, os ambientes, porque devemos tratar todos os seres vivos da mesma maneira que gostaríamos de ser tratados e cuidar do mundo onde vivemos.

(Fonte: Sucesso Sistema de Ensino, *Ética e Cidadania*, 2016.)

1- O que é Ética?

2- Por que a ética é importante?

3- Como você agiria se:

a) Alguém entregasse um troco errado, com dinheiro a mais?
