



**ESCOLA ESTADUAL DE EDUCAÇÃO BÁSICA
APELES PORTO ALEGRE**

AULAS REMOTAS (28.08.2020 A 02.10.2020)

PROFESSORA: MARIA ELIZABETH M. DOS SANTOS TURMA: 32

ALUNO: _____



CIÊNCIAS

ABANDONO E ADOÇÃO DE ANIMAIS

LEIA O TEXTO COM ATENÇÃO E RESPONDA AS QUESTÕES: 1 E 2

LIVRO DA TURMA

“BURITI MAIS CIÊNCIAS” 3º ANO

PÁGINA 44 - 45



**ESCOLA ESTADUAL DE EDUCAÇÃO BÁSICA
APELES PORTO ALEGRE**

AULAS REMOTAS (28.09.2020 A 02.10.2020)

PROFESSORA: MARIA ELIZABETH M. DOS SANTOS TURMA: 32

ALUNO: _____



ALGUMAS RELIGIÕES PRESENTES NO MUNDO

Serrob

Os povos **indígenas** possuem suas religiões, por meio das quais, vivenciam o sagrado presente na natureza.

O **hinduísmo** e o **Budismo** surgiram na Índia, pessoas em diversos países seguem essas religiões. A Índia possui o maior número de seguidores do **Hinduísmo**.

O **Hinduísmo** ensina o respeito pela vida e a busca do conhecimento de si mesmo.

O **budismo** ensina que devemos ter compaixão por todos os seres.

O **Judaísmo**, o **Cristianismo** e o **Islamismo** também tiveram sua origem no Oriente e contam com um grande número de seguidores.

Ser justo para com todos é o que ensina o **Judaísmo**.

O amor a Deus e ao próximo é o principal ensinamento dos seguidores do **Islamismo**.

O **Candomblé** e a **umbanda** são religiões chamadas afro-brasileiras. Elas nasceram no Brasil a partir da cultura dos povos trazidos da África. A solidariedade é muito importante para os seguidores destas religiões.

O **Xintoísmo** é uma antiga religião do Japão.

O **Taoísmo** surgiu na China e ensina a importância do equilíbrio que devemos ter em tudo o que fazemos na vida.

1-Candomblé

2- Taoísmo

3- Xintoísmo

4- Umbanda

5- Cristianismo

6- Judaísmo

7- Islamismo

8- Budismo

9- Hinduísmo

10- Indígenas

Atividades

1- Relacione as colunas conforme o texto.

() O amor a Deus e a o próximo é o principal ensinamento dos seguidores do...

() Vivenciam o sagrado presente na natureza.

() A Índia possui o maior número de seguidores.

() ...Ensina que devemos ter compaixão por todos os seres.

() Ser justo para com todos é o que ensina o ...

() O ... É uma religião chamada afro-brasileira.

() O... Surgiu na China.

() A solidariedade é muito importante para os seguidores desta religião.

() O... é uma antiga religião do Japão.

() O ... também teve origem no Oriente, como o Judaísmo e o Islamismo.



**ESCOLA ESTADUAL DE EDUCAÇÃO BÁSICA
APELES PORTO ALEGRE**

AULAS REMOTAS (28.09.2020 A 02.10.2020)

PROFESSORA: MARIA ELIZABETH M. DOS SANTOS TURMA: 32

ALUNO: _____



GEOGRAFIA

OS CAIÇARAS

LEIA O TEXTO COM ATENÇÃO E RESPONDA AS QUESTÕES: 8 E 9

LIVRO DA TURMA

“BURITI MAIS GEOGRAFIA” 3º ANO

PÁGINA 101



**ESCOLA ESTADUAL DE EDUCAÇÃO BÁSICA
APELES PORTO ALEGRE**

AULAS REMOTAS (28.08.2020 A 02.10.2020)

PROFESSORA: MARIA ELIZABETH M. DOS SANTOS TURMA: 32

ALUNO: _____



HISTÓRIA

**ESPAÇOS PÚBLICOS: NOMES E HISTÓRIA
SOMENTE LEITURA**

LIVRO DA TURMA

“BURITI MAIS HISTÓRIA” 3º ANO

PÁGINA 32 - 33



**ESCOLA ESTADUAL DE EDUCAÇÃO BÁSICA
APELES PORTO ALEGRE**

AULAS REMOTAS (28.09.2020 A 02.10.2020)

PROFESSORA: MARIA ELIZABETH M. DOS SANTOS TURMA: 32

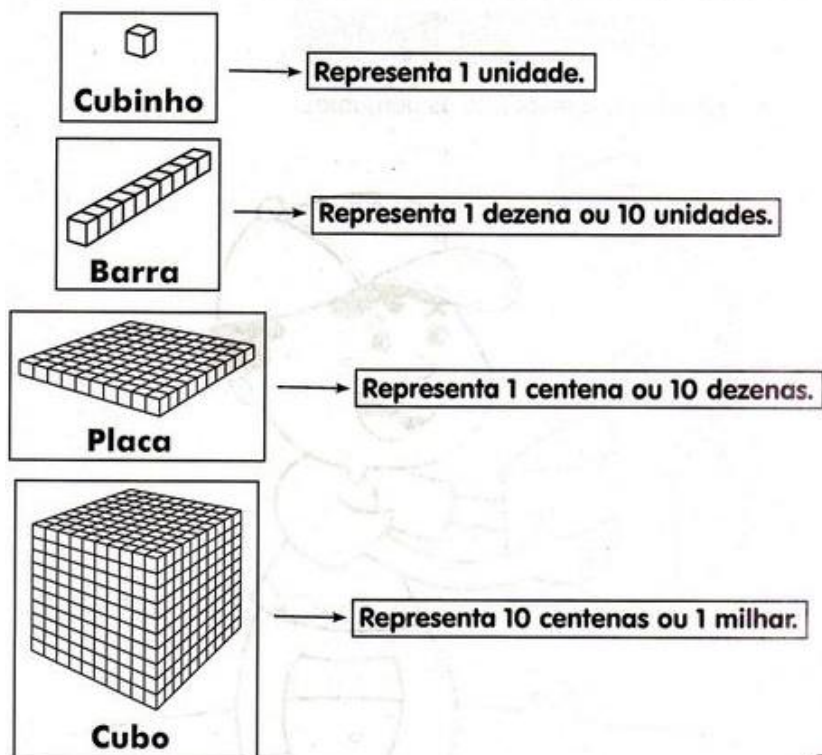
ALUNO: _____



MATEMÁTICA

Sistema de numeração(unidade, dezena, centena e milhar)

SISTEMA DE NUMERAÇÃO



1) Complete escrevendo os números.

a) **2 placas possuem 20 barras = 200 UNIDADES**

b) 3 barras possuem _____ cubinhos = _____

c) 1 cubo possui _____ placas = _____

d) 4 placas + 5 barras = _____

e) 6 cubos = _____

f) 1 cubo + 7 placas = 1 700

g) 5 placas + 8 barras + 9 cubinhos

h) 2 cubos + 3 placas + 6 cubinhos= _____

i) 4 cubos + 7 barras + 4 cubinhos = _____



**ESCOLA ESTADUAL DE EDUCAÇÃO BÁSICA
APELES PORTO ALEGRE**

AULAS REMOTAS (28.09.2020 A 02.10.2020)

PROFESSORA: MARIA ELIZABETH M. DOS SANTOS TURMA: 32



ALUNO: _____

PORTUGUÊS



O MENINO E A ÁRVORE

ERA UMA VEZ UMA ÁRVORE
QUE AMAVA UM MENINO.
E TODOS OS DIAS
O MENINO
VINHA,
JUNTAVA
SUAS
FOLHAS
E COM ELAS FAZIA
COROAS DE REI;
COM ELAS BRINCAVA
DE REI DA FLORESTA.
SUBIA EM SEU GROSSO TRONCO,
BALANÇAVA-SE EM SEUS GALHOS,
COMIA SUAS MAÇÃS.
E BRINCAVAM
DE ESCONDER.
QUANDO FICAVA CANSADO,
O MENINO REPOUSAVA
À SUA SOMBRA FRESQUINHA.
O MENINO AMAVA A ÁRVORE
PROFUNDAMENTE.
E A ÁRVORE ERA FELIZ.



S. Silverstein - tradução de Fernando Sabino

De Olho No Texto

1. Responda de acordo com o texto:

- a. Qual o título do texto? _____
- b. Qual o assunto? _____
- c. O que o menino costumava fazer todos os dias? _____





ESCOLA ESTADUAL DE EDUCAÇÃO BÁSICA
APELES PORTO ALEGRE

AULAS REMOTAS (28.09.2020 A 02.10.2020)

PROFESSORA: MARIA ELIZABETH M. DOS SANTOS TURMA: 32




ALUNO: _____

PRODUÇÕES INTERATIVAS



ATIVIDADES

Calcule as operações e pinte os resultados da mesma cor:

5×5	5×10	5×3	5×7	5×8	5×1																												
5×11	<table border="1" style="border-collapse: collapse; text-align: center;"><tr><td>30</td><td>50</td><td>40</td><td>10</td></tr><tr><td>55</td><td>5</td><td>20</td><td>45</td></tr><tr><td>25</td><td>60</td><td>15</td><td>5</td></tr><tr><td>20</td><td>45</td><td>10</td><td>35</td></tr><tr><td>60</td><td>15</td><td>25</td><td>5</td></tr><tr><td>45</td><td>40</td><td>30</td><td>35</td></tr><tr><td>35</td><td>50</td><td>15</td><td>25</td></tr></table>				30	50	40	10	55	5	20	45	25	60	15	5	20	45	10	35	60	15	25	5	45	40	30	35	35	50	15	25	5×12
30					50	40	10																										
55					5	20	45																										
25					60	15	5																										
20					45	10	35																										
60					15	25	5																										
45					40	30	35																										
35					50	15	25																										
5×2					5×3																												
5×10	5×11																																
5×7	5×5																																
5×8	5×4																																
5×9	5×7																																
5×10	5×11																																
5×12	5×5																																
5×6	5×9	5×2	5×8	5×1	5×5																												

